

# KENDRIYA VIDYALAYA SANGATHAN

## REGIONAL OFFICE - BHOPAL

CLASS – V

CBT

SUBJECT – ENGLISH

### **Syllabus covered – Crying, My Elder Brother**

#### **A: READING**

A-1 Read the following sentence and answer the questions that follow.

MUNNA: Bhaiya, you are five years older than I am and three classes ahead of me.

**Now, give answers: -**

(1) As per above, if Munna is seven years old, how old is Bhaiya?

- a) 14yrs
- b) 12 yrs.
- c) 10 yrs.
- d) 15 yrs.

**Ans : b) 12 yrs.**

**Feedback: Age of Bhaiyya is  $7+5=12$  years**

2) If Munna is in class three, then Bhaiya is in which class?

- a) Fourth
- b) fifth
- c) sixth.
- d) seventh

**Ans : c) sixth.**

**Feedback: Bhaiyya is in  $3+6= 6^{\text{th}}$  class**

#### **B: WRITING**

(3) In hostel, Priya was feeling very sad, so she thought of writing a letter to her mother in Mumbai. What type of letter, she will write-

- a) Official letter
- b) formal letter
- c) In formal letter
- d) None of the above.

**Ans : c) In formal letter**

**Feedback: In formal letter is written to family members and friends.**

(4) If you are asked to make a time – table for a day, which of the following subject will you keep as Miscellaneous or non- studying subject-

- a) English                      b) Hindi                                      c) Drawing                                      d) None of the above

**Ans : c) Drawing**

**Feedback: Drawing is not a regular subject in primary classes**

### C: GRAMMAR

(5) It is not the rhyming word for TEAR ->

- a) fear                                      b) Liar                                      c) pear                                      d) near

**Ans : b) Liar**

**Feedback: Fear, pear and near are the rhyming word for TEAR.**

(6) The little boy was going towards the tree, while his brother was \_\_\_\_\_ towards him.

Tick (v) the opposite of under – lined word –

- a) away                                      b) coming  
c) near                                      d) None of these

**Ans : b) coming**

**Feedback: Opposite of going is coming**

### D: SPELLINGS.

(7) A teacher gave letter cards to three students and asked them to stand in line so as to form a three-letter word.

Tick (v) the correct order, in which they will stand - Priya-R, Sonu-Y – Rani-C

- a) Sony, Priya, Rani                      b) Sony, Rani, priya  
c) Rani, Priya, Sonu                      d) None of the above

**Ans : (c) Rani, Priya, Sonu**

**Feedback: C R Y-- Rani, Priya, Sonu**

(8) Tick (v) the correct spelling of the underlined word in sentence

**Then you can jump in the hosewr**

- a) shrowe                                      b) shwoer  
c) shewor                                      d) shower

**Ans : d) shower**

**Feedback: Then you can jump in the shower**

**E: VOCABULARY.**

(9) If your brother is 7 years old and you are 3 years old, then people will call your brother as-

- a) Younger brother
- b) Elder brother
- c) Twin brother
- d) small brother

**Ans : b) Elder brother**

**Feedback:** the sibling who is older than the other is considered to be the elder

(10) Another word for CRYING is –

- a) laughing
- b) Weeping
- c) playing
- d) Smiling

**Ans : b) Weeping**

**Feedback:** Synonym for CRYING is weeping

# केंद्रीय विद्यालय संगठन

## क्षेत्रीय कार्यालय - भोपाल

कक्षा - पाचवीं

विषय - हिंदी

**पाठ्यक्रम - \* पत्र, चिट्ठी का सफर (लेख), डाकिए की कहानी कँवर सिंह की  
जुबानी (भेंटवार्ता), वे दिन भी क्या दिन थे (विज्ञान कथा)**

1. राजेश ने पोस्टकार्ड पर गलत पिनकोड लिख दिया. उसने इनमें से क्या लिखा होगा -

- क) 456001
- ख) 453331
- ग) 110016
- घ) 0731

उत्तर- घ) 0731

**Feedback:** पिन कोड में कुल 6 अंक होते हैं

2. यदि राकेश कम से कम कीमत में अपने ज्यादा से ज्यादा दोस्तों को पत्र लिखना चाहता है तो आप उसे इनमें से किस तरह के पत्र का सुझाव देंगे ?

- क) पोस्टकार्ड
- ख) लिफाफा
- ग) अंतर्देशीय पत्र
- घ) पार्सल

उत्तर- क) पोस्टकार्ड

**Feedback:** इनमें से पोस्टकार्ड की कीमत सबसे कम होगी

3. मोहन अपने दादाजी को अपने आने की सूचना देने के लिए शीघ्र संदेश भेजना चाहता था, तो वह इनमें से कौनसा साधन उपयोग करेगा ?

- क) डाकपत्र
- ख) ई-मेल
- ग) कबूतर
- घ) हरकारे

उत्तर- ख) ई-मेल

**Feedback:** इनमें से ईमेल संचार के अन्य साधनों से तेज है

4. "समाचार पत्र संचार का सर्वसुलभ साधन है ।" - इस वाक्य में 'संचार' शब्द का अर्थ है-

- क) पत्र
- ख) समाचार पत्र
- ग) किसी संदेश को दूर तक पहुँचाने की क्रिया
- घ) कहानी

उत्तर- ग) किसी संदेश को दूर तक पहुँचाने की क्रिया

**Feedback:** संचार का अर्थ किसी संदेश को दूर-दूर तक पहुँचाना होता है

5. पिनकोड में पहला अंक क्या दर्शाता है ?

- क) देश
- ख) प्रदेश
- ग) शहर
- घ) डाकघर

उत्तर- ख) प्रदेश

**Feedback:** 6 अंकों के पिन कोड में पहला अंक प्रदेश के लिए निर्धारित होता है

6. यदि सुरेश को अपने दादाजी को पत्र भेजना है तो वह पते में दादाजी के नाम के बाद सबसे पहले क्या लिखेगा ?

- क) मकान नंबर/ कॉलोनी का नाम
- ख) शहर
- ग) प्रदेश
- घ) जिला

उत्तर- क) मकान नंबर/ कॉलोनी का नाम

**Feedback:** व्यक्ति के नाम के बाद पते में सबसे पहले मकान नंबर और कॉलोनी का नाम लिखा जाता है

7. दिनभर घूमने के बाद सभी दोस्तों के पेट में चूहे कूद रहे थे - इस वाक्य में प्रयुक्त मुहावरे का अर्थ है-

- क) बहुत भूख लगना
- ख) बहुत प्यास लगना
- ग) बहुत थकान लगना
- ख) बहुत नींद आना

उत्तर- क) बहुत भूख लगना

**Feedback:** पेट में चूहे कूदना मुहावरे का अर्थ बहुत भूख लगा होता है

8. दिए गए वाक्य में से क्रिया शब्द छाँटिये - रानी को दौड़ने वाली कार चाहिए।

- क) कार

- ख) दौड़ने वाली
- ग) रानी
- घ) चाहिए

उत्तर- घ) चाहिए

**Feedback:** उपर्युक्त वाक्य में चाहिए शब्द क्रिया के रूप में प्रयोग हुआ है

9. आज भी दूर दराज के गाँवों में कैसे संदेश पहुँचाया जाता है ?

- क) चिट्ठी
- ख) ई मेल
- ग) फोन
- घ) फेक्स

उत्तर- चिट्ठी

**Feedback:** सुदूर गांव में संचार के आधुनिक साधन उपलब्ध नहीं होते हैं अतः वहां आज भी संदेश पहुंचाने के लिए चिट्ठी या पत्र का उपयोग किया जाता है

10. राम और श्याम एक दूसरे से विपरीत कार्य करते हैं, जैसे राम दिन में पढ़ता है और श्याम रात में, उसी प्रकार राम हमेशा कक्षा में उपस्थित रहता है और श्याम .....

- क) आना
- ख) नहीं आना
- ग) अनुपस्थित
- घ) उपस्थिति

उत्तर- ग) अनुपस्थित

**Feedback:** उपस्थित शब्द का विलोम अनुपस्थित होता है

# KENDRIYA VIDYALAYA SANGATHAN

## REGIONAL OFFICE - BHOPAL

CLASS – V

CBT - SEPTEMBER

SUBJECT – MATHS

### **Syllabus covered - Does it Look the Same? Be my Multiple, I will be Your Factor**

Q.1 A shopkeeper sells candles in packets of 12 and candle stands in packet of 8. He sells only packets. What is the least number of candles and candle stands Nita should buy so that there will be one candle for each candle stand.

(a) 24

(b) 48

(c) 16

(d) 60

**Ans. : (a) 24**

**Feedback: LCM of 12 and 8 is 24**

Q.2 Which one of following shape can be cut into two mirror halves in more than 10 ways

(a) Square

(b) Rectangle


(c) Circle

(d) Triangle

**Ans. : (c) Circle**

**Feedback: A circle have infinite lines of symmetry.**

Q.3 Radha pasted this shape on hour hand of a clock. How will it look after 3 hours?





(a)

(b)

(c)

(d)



Ans. : (a)

Feedback: After 3 hours shape will take  $\frac{1}{4}$  turn.

Q.4 A group of students went for a trip. Teacher divided them in 4 groups in such a way that all groups have equal number of students. The total number of students may be –

- (a) 150                      (b) 278                      (c) 576                      (d) 302

Ans. : (c) 576

Feedback: 576 is the only number (in above four numbers) which can be divided by 4

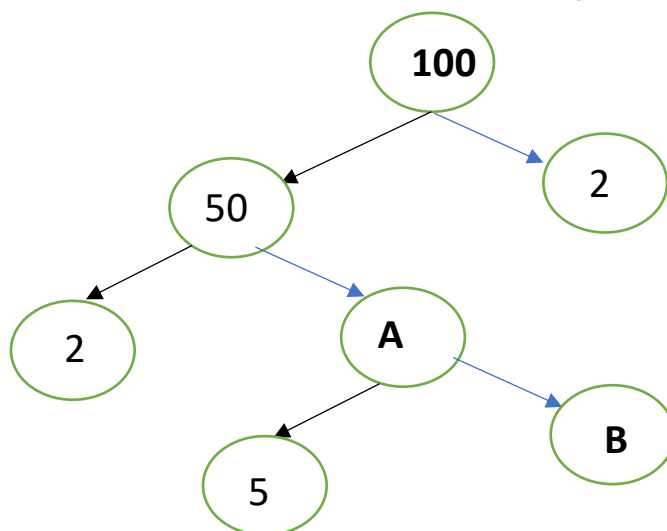
Q.5 Which is not multiple of 16 –

- (a) 272                      (b) 512                      (c) 192                      (d) 100

Ans. : (d) 100

Feedback: All numbers are multiples of 16 except 100

Q.6 Find the values of A and B in the following factor tree.




- (a) A=50, B=5                      (b) A=25, B=5  
(c) A=50, B=5                      (d) A=25, B=2



Ans. : (b) A=25, B=5

Feedback:  $50=2 \times 25$  and  $25=5 \times 5$  so A= 25 and B= 5

Q.7 Identify the mirror halves of the following shape.



(d)

Ans. : (d)

Feedback:



Q.8 Two students were standing opposite side of a table and a word is written on the table. Which word looks same to both of the students?

(a) TENET

(b) NOON

(c) NITIN

(d) NAMAN

Ans. : (b) NOON

Feedback: Only NOON looks same after half turn

Q.9 I am a multiple of 70. I am between 500 and 1000. My tens digit is odd. Who could I be?

(a) 490

(b) 630

(c) 730

(d) 840

Ans. : (b) 630

Feedback: 630 is the only number which is between 500 and 1000, tens digit is odd, a multiple of 70

Q.10 Solve the puzzle:

- \* I am not a prime number
- \* One of my factor is 3.
- \* I am even number.
- \* I am not a multiple of 4.

Who am I ? \_\_\_\_\_

(a) 10

(b) 12

(c) 15

(d) 18

**Ans. : (d) 18**

**Feedback:** 18 is not a prime number, even number, not a multiple of 4 and one factor of 18 is 3

**KENDRIYA VIDYALAYA SANGATHAN**  
**REGIONAL OFFICE - BHOPAL**

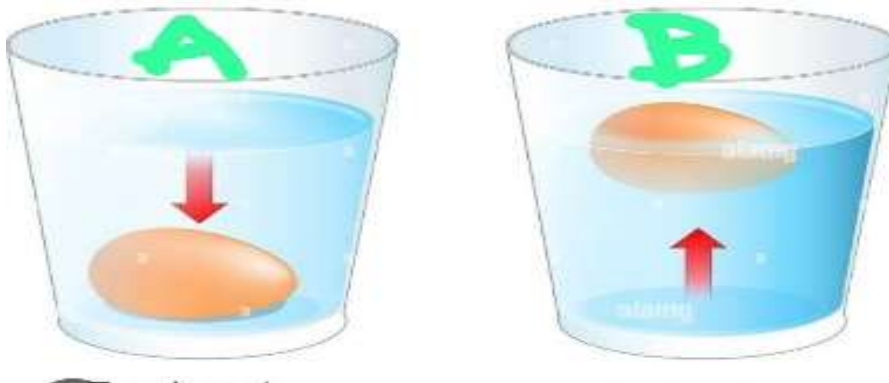
**CLASS – V**

**CBT**

**SUBJECT – EVS**

**Syllabus covered - Experiments With Water, A Treat For Mosquitoes, Up You Go.**

0.1. Observe this picture which glass contains salty water:



a) A

b) B

c) A and B both

d) None of these

**Ans. b) B**

**Feedback:** Salty water have high density so egg will float on it.

Q. 2. Observe the given picture and report the places where mosquitoes breed.



a) A

b) B.

c) Both A&B

d) None of these

**Ans. c) Both A&B**

**Feedback:** mosquitoes breed in both places as Mosquitoes breed in standing water.

Q.3. Observe this report and which disease diagnosed, in the blood report



- c) Gulmarg                      d) Manali

**Ans. b) Uttarkashi**

**Feedback:** Nehru Institute of Mountaineering located in Uttarkashi.

Q.7 While preparing tea which of the following does not get completely dissolve in water.

- a) sugar                      b) Tea leaves  
c) milk                      d) none of these

**Ans. b) Tea leaves**

**Feedback:** Tea leaves does not dissolve in the water.

Q.8 Doctor said that the blood report of Mohan is showing normal range of haemoglobin. What could be the range of haemoglobin in her blood.

- a) 12 to 16 gm/dl                      b) 10 to 12 gm/dl  
c) 13 to 14 g/dl.                      d) none of these

**Ans. a) 12 to 16 gm/dl**

**Feedback:** Normal range of haemoglobin for male is 12 to 16 gm/dl

Q.9 Diseases caused by contaminated food and water.

- a) Malaria                      b) Flu  
c) Dengue                      d) Jaundice

**Ans. d) Jaundice**

**Feedback:** Diseases caused by contaminated food and water is Jaundice.

Q.10 Doctor said the blood report of Radha is showing 9 gm/dl of haemoglobin. Lack of haemoglobin can cause:

- a) Malaria                      b) Anaemia  
c) Cancer                      d) Cholera

**Ans. b) Anaemia**

**Feedback:** Anaemia is a condition when a blood test shows a hemoglobin value of less than 13.5 gm/dl in a man or less than 12.0 gm/dl in a woman